

- ১) বর্ণ বিশ্লেষণ করো: ক) রাস্তা : খ) মাতব্বর : (২)
- ২) শব্দযুগলের অর্থপার্থক্য দেখাও : ক) দ্বীপ/দীপ : খ) সাপ/শাপ : (২)
- ৩) ক) নিচের বাক্যগুলি থেকে সর্বনাম খুঁজে নিয়ে তা দিয়ে আলাদা বাক্য রচনা করো: (১)
❖ আসে যার চোখে জল।
খ) নীচে দাগ দেওয়া পদটি বিশেষ্য পদে পরিবর্তন করে বাক্যকি লেখো। (১)
❖ ফিতেটি চার মিটার দীর্ঘ।
- ৪) সমার্থক শব্দ লেখো (দুটি করে): ক) নেত্র : খ) ধেনু (২)
- ৫) লিঙ্গান্তর কর: ক) মাননীয় : খ) প্রতিবেশী : (২)
- ৬) সন্ধি বিচ্ছেদ কর: ক) আষাঢ়ান্ত : খ) অপরাহ্ন : (২)
- ৭) ক) কর্তা, কর্ম ও ক্রিয়াগুলিকে তাদের ঘরে বসাতো : (০.৫ X ৩ = ১.৫)
যাদুমালা ওস্তাদ কুস্তি শেখায়। কর্তা : কর্ম : ক্রিয়া :
- খ) বর্ণগুলি ঠিক মতো সাজিয়ে অর্থপূর্ণ শব্দ গঠন কর। (০.৫ X ৩ = ১.৫)
শরিপবে : লমহিয় : তভামরহা :
- ৮) অনুচ্ছেদ রচনা কর: 'এই বিদ্যালয়ে কেন পড়তে চাও, তা পাঁচটি বাক্যে প্রকাশ কর'। (৫)

SUBJECT: ENGLISH Full Marks: 20

- 1) Underline as per instruction in bracket in the following sentences: (2)
a) Oishi is a good football player. (Underline Adjective)
b) Tortoise walks very slowly. (Underline Adverbs)
c) You have to come to my birthday party. (Underline Pronouns)
d) My mother cooks delicious food. (Underline Nouns)
- 2) Write the meaning of the words in Bengali: (2)
a) Thrilled : b) Snatch :
- 3) a) Rewrite the sentence changing the number (singular/plural) of the underlined words. Change the verbs accordingly: (2)
The baby is sleeping.
b) Make a question of the given statement.
Example: My name is Ravi. (Using What); Ans: What is your name?
I read in class 4 (Using Which)
- 4) Complete the sentences with the opposites of the words given in brackets: (2)
a) Sorrow in our life is _____ (permanent).
b) People of a region wear _____ (different) types of dress.
- 5) Fill in the blanks with Tense of the verbs given in brackets: (2)
a) The man _____ (have) a cup of tea. (Present Continuous Tense)
b) She _____ (live) in Germany for 10 years. (Present Perfect Tense)
- 6) Fill in the blanks with correct prepositions: (1.5)
Swami Vivekananda was born _____ 1863. He was born _____ Calcutta. He belonged _____ a rich family.
- 7) Fill in the blanks with correct articles: (1.5)
a) He has come without _____ umbrella.
b) _____ Ganga is _____ sacred river.
- 8) Fill in the blanks with words given below: (2) [Very, carefully, always, honestly]

a) They opened the lid of the box _____.

b) He was _____ poor but lived _____.

c) We should _____ try to help others.

9) Write five sentences on how you celebrated the birthday of Subhas Chandra Bose (Netaji), the great freedom fighter, in your school: (5)

Use the given points:

- Date of celebration
- When you came
- Activities: hoisting flag, singing patriotic songs etc.

বিষয়: সাধারণ জ্ঞান পূর্ণমান : ৫

১) ভারতবর্ষের কোন রাজ্যে জোয়ার, গম ও বাজরার চাষ বেশি হয়?

২) " সূর্য পৃথিবীর চারদিকে ঘোরে " - এই উক্তিটি ঠিক না ভুল ?

৩) নীচের কোন প্রাণীটির শিরদাঁড়া নেই? (টিক দাও)

a) আরশোলা b) কুনো ব্যাঙ c) রুই মাছ d) টিকটিকি

৪) 'খাঁচার ভিতর' গানটি কার লেখা?

৫) ভারতবর্ষের কোন রাজ্যে মুগা রেশম মথ দেখতে পাওয়া যায়?

বিষয়: গণিত পূর্ণমান : ২৫

১) a) সরল করো: $(20 + b) \div 8 - 2$










(১ + ২ + ২ = ৫)

b) $2992 \div 18$ - মৌলিক উৎপাদকে বিশ্লেষণ করে ভাগ করো।

c) ছবিটিতে কলা, আপেল ও লেবু এই তিন রকমের ফল আছে এবং তিনটি করে ফলের সমষ্টি মূল্য নিচে দেওয়া আছে, এর মধ্যে থেকে একটি কলার মূল্য নির্ণয় করো।

২) গঙ্গাসাগরের রাস্তার কাজ চলছে। প্রথমদিনে রাস্তার $\frac{2}{5}$ অংশ কাজ হয়েছে। কিন্তু দ্বিতীয় দিনে মাত্র $\frac{1}{5}$ অংশ কাজ হয়েছে। ওই দুদিনে মোট কত অংশ কাজ হয়েছে হিসাব করে বল। এখনও আরও কত অংশ কাজ বাকি আছে সেটাও হিসাব করে বল। (২)

৩) যতীন কাকা ২০২৫ টি নারকেল ৯টি ট্রাকে ভর্তি করে পাঠাবেন। যদি তিনি প্রতি ট্রাকে সমান সংখ্যক নারকেল পাঠান, তাহলে প্রতি ট্রাকে কতগুলি নারকেল পাঠাবেন হিসাব করে বলো। (২)

		
		
		
21 টাকা	24 টাকা	30 টাকা

৪) আমার পিসতুতো বোনের বয়স ১০০ মাস। বোনের বয়স কত বছর কত মাস হিসাব করে বলো। (৩)

৫) যদি একটি গ্লাসে ১৫০ মিলিলিটার দই-এর ঘোল ধরে, তাহলে ১২ গ্লাস ঘোলের জন্য কতটা পরিমাণ ঘোল তৈরি করতে হবে? (লিটারে হিসাব করো) (৩)

৬) মিহির হাওড়া স্টেশন থেকে ১৬:১০ - এর তারকেশ্বর লোকালে উঠল। বিকেল ৫:০৫ এ দিয়ারা স্টেশনে পৌঁছালো। মিহির কত মিনিট ট্রেনে ছিল? (৩)

৭) ১ কিলোমিটার ২ মিটার ১৬ সেন্টিমিটার = কত মিলিমিটার? (৩)

৮) মিতালি ১৫ টাকা প্রতি ডজন দরে ৭৫৬ টি কলা কিনেছে এবং ২০ টাকা প্রতি ডজন দরে সব কলা বিক্রি করলো। হিসাব করে বলো মিতালির কত টাকা লাভ হলো। (৪)